

**Школьный этап Всероссийской олимпиады школьников
2021-2022 учебном году 8 класс
Максимальное количество баллов – 68
Время на выполнение – 45 минут**

Задание 1. Выберите правильный ответ (1 бал.):

Что из названного было одной из причин бунтов 1648г. и 1662г. в Москве?

- А) ликвидация городского самоуправления
- Б) введение новых пошлин и денег
- В) введение рекрутской повинности для посадского населения
- Г) предоставление иностранным купцам преимуществ в торговле

Задание 2. Выберите правильный ответ (1 бал.):

Свод законов, принятый в правление Алексея Михайловича, получил название:

- А) Судебник
- Б) Закон государства Российского
- В) Русская правда
- Г) Соборное уложение

Задание 3. Выберите правильные ответы (2 бал.):

Кто из нижеперечисленных является первопроходцем (землепроходцем) XVII в.?

- А) Е. Хабаров
- Б) С. Челюскин
- В) С. Дежнёв
- Г) А. Колчак
- Д) В. Беринг

Задание 4. Впишите правильную букву или буквы вместо пропусков. Поясните, что означает, каждое из слов (8 бал.):

4.1. ..ос..фляне

4.2. ..стр..лябия

4.3. и..т..рв..нция

4.4.

к..раве....а

Задание 5. Выберите лишнее имя из списка. Кратко поясните свой выбор(4 б.):

5.1. Диего Веласкес, Жан Кальвин, Леонардо да Винчи, Питер Брейгель Старший

5.2. Никон, Сильвестр, Андрей Курбский, Алексей Адашев

Задание 6. Прочитайте данные определения исторических понятий и напишите соответствующие термины (4 бал.):

6.1. Содержание должностных лиц за счет части налогов с местного населения – это

6.2. Принцип назначения на высшие государственные и военные должности в зависимости от знатности рода – это _____

6.3 Противники церковной реформы Никона – это

6.4. Участники вооруженной борьбы в Нидерландах с испанцами – это _____

Задание 7. Восстановите правильную хронологическую последовательность событий.

Запишите ответ в виде последовательности номеров событий в задании(2 бал.):

- 1. Совет Всея земли в Ярославле
- 2. Взятие Китай-города войсками Д.М. Пожарского
- 3. Распад Первого земского ополчения
- 4. Разгром гетмана Ходкевича

5. Избрание Михаила Романова царём на Земском собрании

Ответ: _____

Задание 8. Соотнесите имя исторического деятеля и род его деятельности. Во втором перечне есть лишняя характеристика (2 бал.):

Исторический деятель:

1. Михаил Воротынский
2. Фёдор Конь
3. Иван Пересветов
4. Иван Фёдоров
5. Андрей Чохов

Род деятельности:

- A. Автор посланий о необходимости усиления власти государя
- B. Полководец, разгромивший крымских татар в битве при Молодях
- V. Архитектор, создатель крепостей
- Г. Создатель Царь-пушки
- Д. Один из руководителей опричнины
- E. Русский первопечатник

1	2	3	4	5

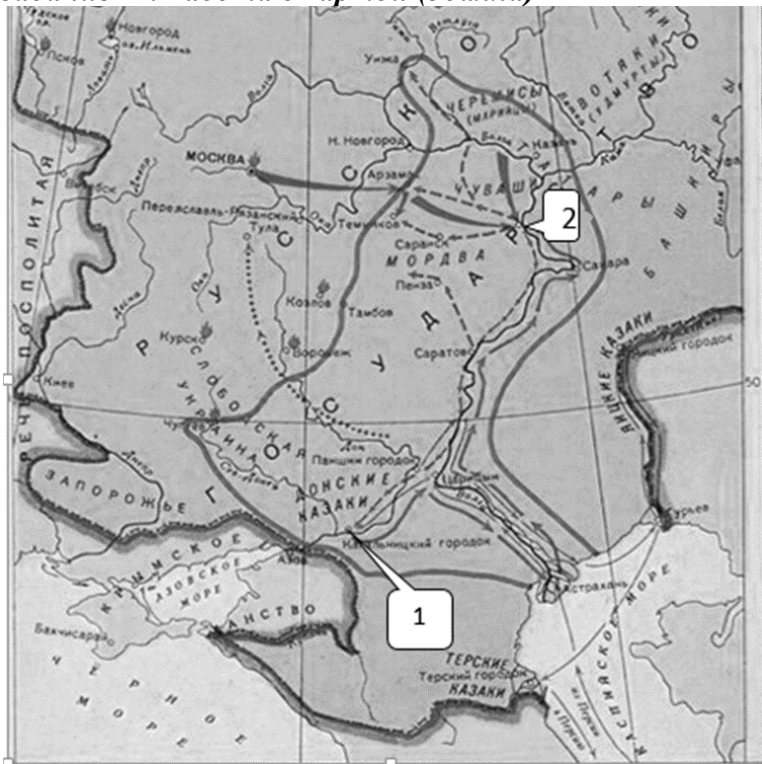
Задание № 9. В истории существуют «крылатые выражения». Назовите тех деятелей, которых они обозначают. К какому событию в истории они относятся? (4 балла):

1. «Боярский царь»- 2. «Тушинский вор» 3. «Воренок»

Задание № 10. Да или нет? (4 балла):

1. Борис Годунов был единственным царем из рода Годуновых, правивших на российском престоле
2. Впервые полки иноземного строя были созданы накануне русско-польской 1632-1634 гг.
3. Первая отечественная мануфактура появилась в 1620 г. под Тулой для производства железа и оружия
4. Первое высшее учебное заведение – Славяно-греко-латинское училище было открыто в Москве только в 1687 г. по инициативе Сильвестра Медведова.

Задание 11. Работа с картой (3 балла)



9.1. Напишите фамилию предводителя движения, обозначенного на схеме стрелками.

Ответ: _____

9.2. Назовите пропущенное десятилетие: «События, обозначенные на схеме стрелками, начались в тысяча шестьсот ____ годах». Ответ напишите словом.

Ответ: _____

9.3. Укажите название города, обозначенного на схеме цифрой «2», который не смогли взять восставшие.

Ответ: _____

Задание 12. Заполните пробелы в тексте (4 бал.):

Пытаясь найти себе внешнюю поддержку, царь Василий Шуйский направил в Новгород своего племянника _ (1) _, чтобы попытаться получить помощь из _ (2) _, правитель которой находился во враждебных отношениях со своим племянником польским королём Сигизмундом III. Был заключён договор, по которому за уступку города _ (3) _ и значительные денежные выплаты в распоряжение России был передан корпус воинов-наёмников. Вместе с этим корпусом царский воевода выступил в поход из Новгорода. Армия его медленно двигалась на юг, к Москве, и постепенно весь Север и значительная часть Центра были очищены от войск тушинцев. Сняв осаду с _ (4) _ монастыря, он торжественно вступил в столицу.

1. _____

2. _____

3. _____

4. _____


Задание 13. Перед вами текст законодательного документа. Определите название и год принятия документа. О каком самодержце в нём идёт речь?(3 балла.):

«В лето 7156-года, 20 июля, в 16день, государь царь и великий князь..., всея Руси самодержец,... советовался с отцом своим и богомольцем, святейшим Иосифом, патриархом Московским и всея Руси, и с митрополиты, ... и со всем освящённым Собором, и говорил со своими государевыми боярами, и с окольными, и с думными людьми, а пристойны ли те статьи к государственным и к земским делам. И те бы статьи выписать, и чтобы прежних великих государей, царей и великих князей российских, и отца его государева, блаженной памяти великого государя, царя и великаго князя Михаила Фёдоровича всея Руси, указы и боярские приговоры на всякие государственные и на земские дела собрать, и те государские указы и боярские приговоры со старыми судебниками исправить... Чтобы Московского государства всяких чинов людей, от большего и до меньшего чину, суд и расправа была во всяких делах всем равна... И указал государь то всё в Уложение написать на список и закрепить тот список... и всякие дела делать по тому Уложению».


Задание 14. Соотнесите имя изображение и архитектурную постройку, ответы запишите в таблицу (4 бал.):



A)



Б)



В)

Г)



- 1 – Успенский собор Московского кремля
 2 – Архангельский собор Московского кремля
 3 – Покровский собор или собор Василия Блаженного
 4 – церковь Покрова в Филях

А	Б	В	Г

Вопрос №15 (12 баллов)

Заполните пустые ячейки таблицы, используя представленные в приведённом ниже списке данные. Для каждой ячейки, обозначенной буквами, выберите номер нужного элемента.

Представитель культуры	Произведение	Жанр
А)	«Домострой»	литература
Б)	В)	Книгопечатание
Г)	Д)	Архитектура
Е)	Царь-пушка	Литейное искусство

Элементы:

- 1.»Апостол» 2.И. Фёдоров 3.Ф.Конь 4.»Четьи-Минеи»
 5.Смоленский Кремль 6. Митрополит Макарий 7. А.Чохов
 Покровский собор в Москве 9.Сильвестр.